



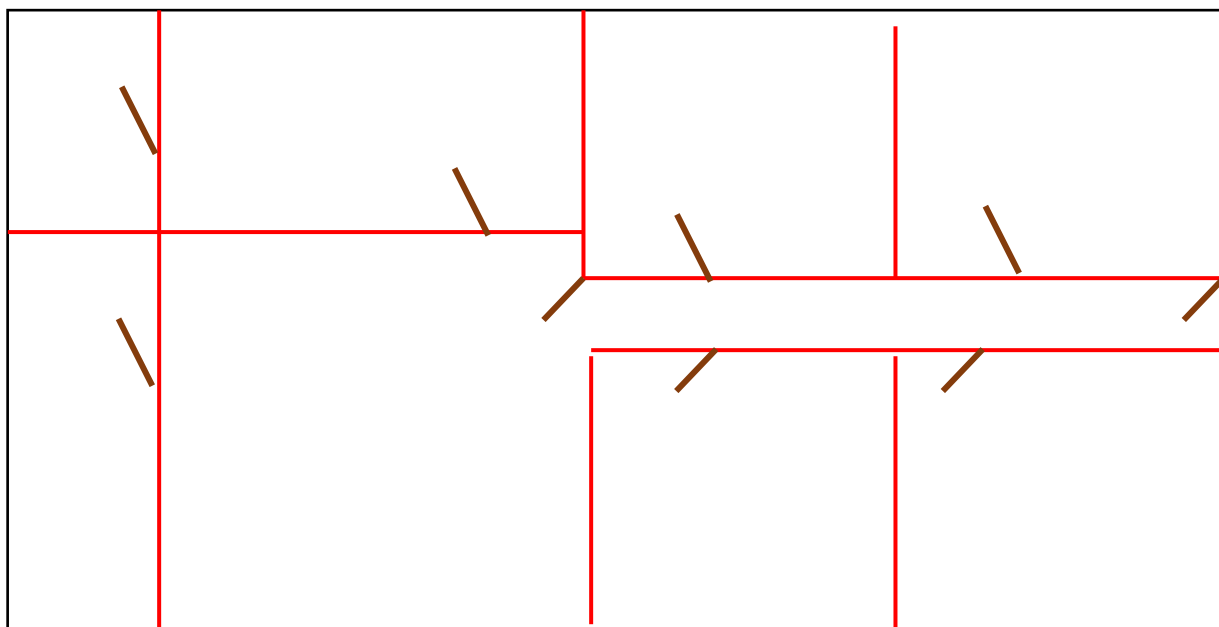
## SERES

Continúa la serie:





## ORIENTACIÓN ESPACIAL

¿Puedes representar, en un plano, someramente cómo es la distribución de tu casa? Sólo de una planta, si tiene varios pisos.



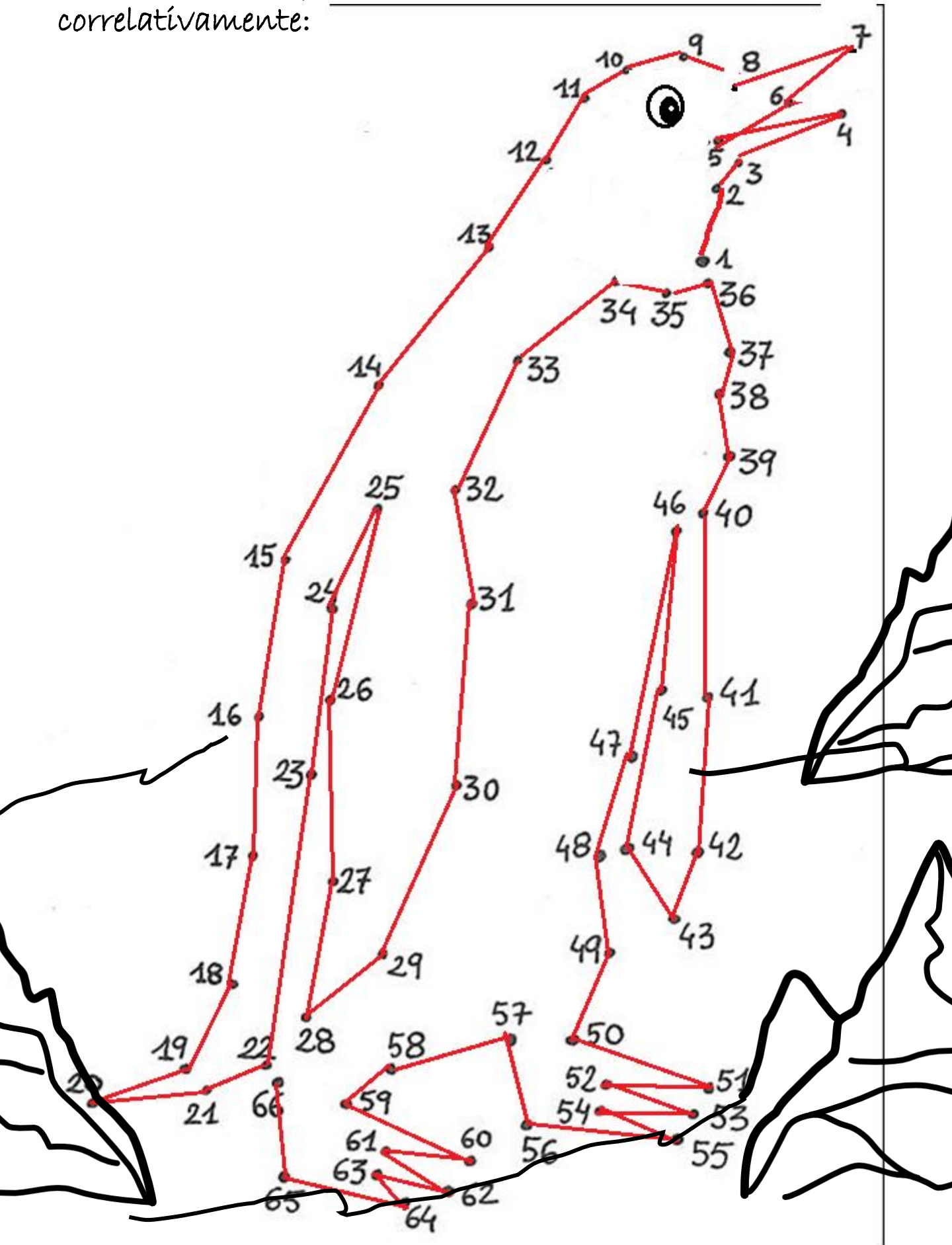
## ATENCIÓN

Encuentra diez diferencias entre los dos dibujos:



## DIBUJO


Descubre el dibujo uniendo con un lápiz los puntos correlativamente:



## VELOCIDAD DE PROCESAMIENTO

Encuentra la "q" entre las letras siguientes:

p  
p  
p  
p  
p  
p  
p p p p p p p p p p p p p p p p p q p p p p p p p p p p p p p p p  
p  
p p



## RAZONAMIENTO

Encuentra palabras relacionadas, como en el ejemplo:

Manzana es a plátano como

Bolígrafo es a . . lapicero, pluma...

Automóvil es a . **bicicleta, autobús,**...

Gallina es a . . . gallo, paloma,..

Tenedor es a . . . **cuchara, cuchillo, . .**

## DESTREZA MOTÓRICA FINA

Repasa la línea de puntos a ser posible de un solo trazo:



## ESCRITURA

Describe el paisaje que ves a través de la ventana que más te guste de tu casa:



A través de mi ventana veo

un árbol grande que yo

plante; otros dos más adelante

y campos que ya no se

cultivan pero de los que se

aprovecha la hierba en

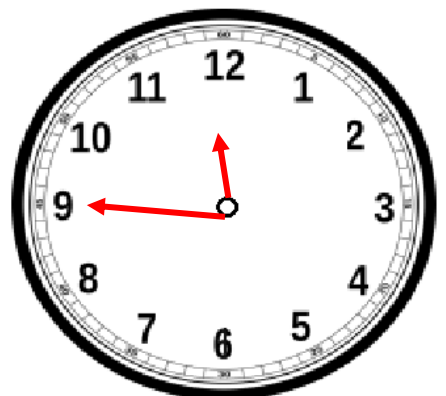
primavera.

Cuando nieva, se ve una enorme masa blanca a lo lejos.

## RECUERDA

¿Qué día es hoy? ¿Qué hora es? Completa el recuadro y pinta las agujas del reloj que indiquen la hora que es ahora

Día semana	día mes	mes
miércoles	20	Octubre
Año	estación	
2021	Otoño	



## OCTUBRE

Octubre es una palabra procedente del latín que significa "ocho meses". A pesar de ser el décimo mes en la actualidad gracias a la aportación del calendario juliano, es el octavo mes en el calendario romano, puesto que se consideraba que marzo era el primer mes del año y diciembre, el último.

El 4 de octubre se celebra el Día mundial de los animales.

El 12 de octubre de 1492, un grupo expedicionario español, comandado por Cristóbal Colón llega al continente americano, protagonizando uno de los mayores hitos de la Historia.

El 16 de octubre se celebra el Día Mundial de la Alimentación.

El 17 de octubre se celebra el Día Internacional para la Erradicación de la Pobreza.

El 19 de octubre Día mundial de la lucha contra el cáncer de mama.





## SUDOKU DE CUATRO

Coloca en cada celda los números del uno al cuatro sin que ninguno se repita ni en filas ni en columnas:

		2	
		3	
1		4	3
3	4		2

4	3	2	1
2	1	3	4
1	2	4	3
3	4	1	2

## RAZONAMIENTO

Si vas a comprar fruta por valor de 3,77 € y pagas con las siguientes monedas ¿Cuántas monedas entregarías de cada clase?



Una de dos euros, una de un

euro, una de 50 cts. , una de

20 cts, una de 5 cts. y una de 2

cts.

## MEMORIA

¿Recuerda qué monedas del ejercicio anterior utilizó para la compra de la fruta y cuales no tuvo necesidad de emplear?:

RESPUESTA:


Utilicé una de dos euros, una de un euro, una de 50

cts. , una de 20 cts., una de 5 cts. y una de 2 cts.

No utilicé las monedas de 10 cts. y de 1 cts.

## MOVILIDAD

Realiza los siguientes gestos con las manos:





# MANDALA

