



LECTURA


El 3 de noviembre de 1957, la Unión Soviética pone en órbita el Sputnik 2 que lleva a bordo a la perra Laika.

El Sputnik 2 fue la segunda nave espacial puesta en órbita alrededor de la Tierra, siendo la primera nave espacial que transportó material biológico.

Era una cápsula cónica de 4 metros de alto con una base de 2 metros de diámetro.

La misión suministró a los científicos los primeros datos del comportamiento de un organismo vivo en el medio espacial.

Completa y colorea el dibujo:



ATENCIÓN

En esta serie de dibujos infantiles, cuenta cuántos gatos negros puedes ver. **11 GATOS NEGROS**



PENSAMIENTO LÓGICO ABSTRACTO-ADIVINANZAS

Estudiante que estudias a la luz de la vela, ¿qué animal no es un ave, pero como ella vuela ?

El murciélago

¿Qué cosa es que cuanto más intensa se hace menos se ve?

La oscuridad

Una dama muy delgada y de palidez mortal, que se alegra y se reanima cuando la van a quemar ¿qué es?

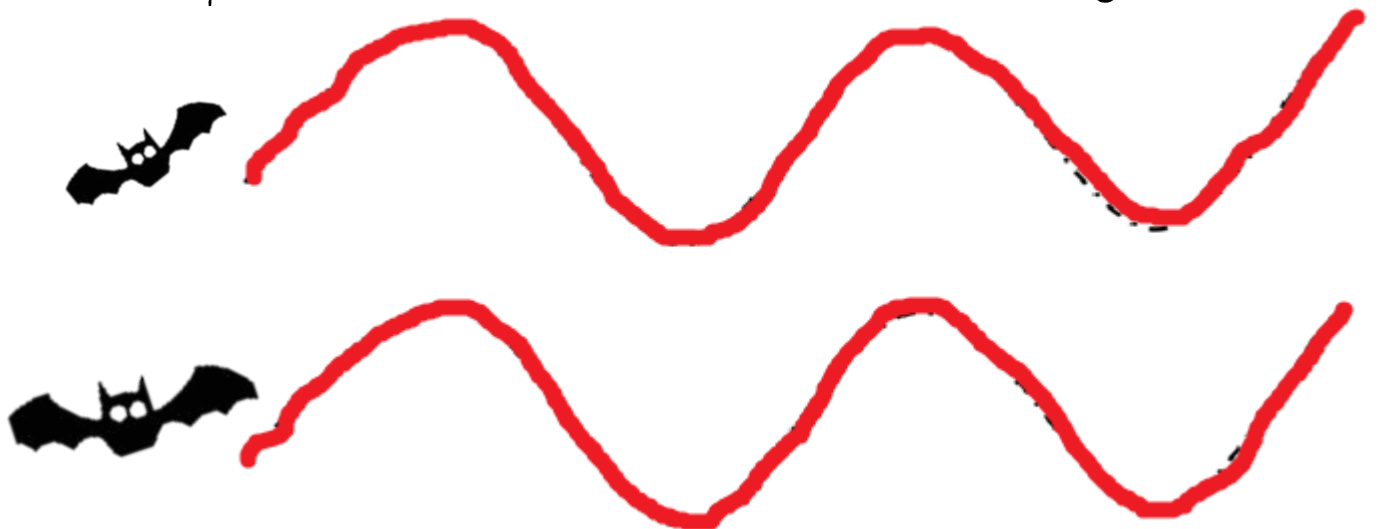
ESCRITURA

Esta semana hemos celebrado el día de Todos los Santos; tal vez hayas realizado una visita al cementerio, o tal vez no. ¿Quisieras escribirnos algo sobre tus sentimientos relacionados con un ser querido, que se fue?, tal vez prefieras contar por qué no te gustaría hacerlo,... puedes escribir aquello que te haga sentir mejor:

*Se han ido ya varias personas en
mi familia. Me acuerdo siempre de
mi abuelo, en ocasiones, veo
personas que se le parecen por la
calle y quiero llamarle. Cuando
tengo problemas, me acuerdo de él.*

MOTRICIDAD FINA

Repasa el trazado del vuelo de los murciélagos:



VELOCIDAD DE PROCESAMIENTO

Lee rápidamente las palabras que siguen y rodea en un círculo las que estén bien escritas

perrro
perro
perro
perrro
peerro
perro
peerro
perro
ppeerro

pperro
perro
perrro
pperr
peroo
perooo
perro
prero
perro

PENSAMIENTO MATEMÁTICO

Ordena de mayor a menor los números siguientes, colocándolos por orden en la fila de abajo:

22

54

456

789

122

252

789

456

252

122

54

22

VOCABULARIO

Escribe el nombre de los siguientes objetos:



Jarra



Cazo



Mortero



Batidora



Botijo



Cuchillo



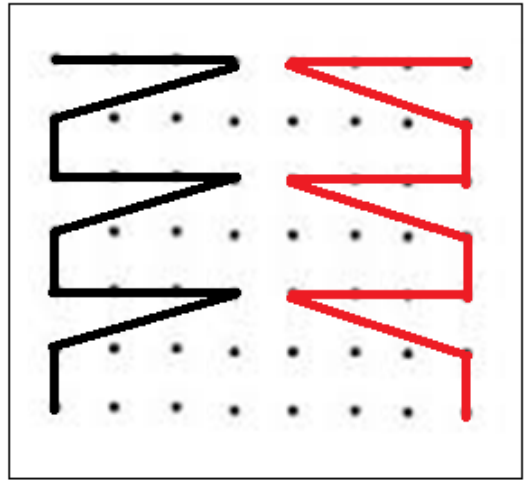
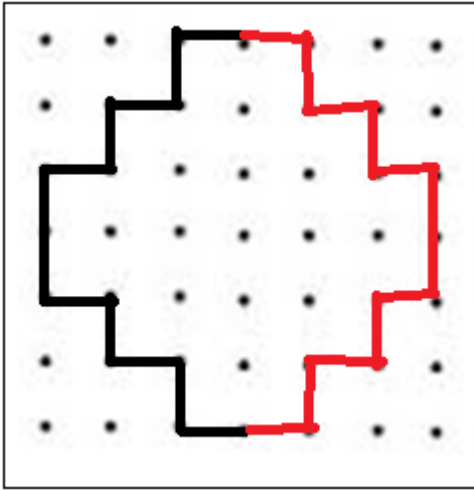
Tenedor



Olla Exprés

ORIENTACIÓN ESPACIAL

Dibuja el símétrico de las siguientes figuras ayudándote de los puntos:



ESCRITURA CREATIVA

Escribe oraciones relacionadas con lo que sucede en los dibujos:



La bruja prepara una poción mágica en su olla gigante



Llueve, pero Alfredo sonríe porque le gusta la lluvia



Cuando llegue la primavera los pájaros volverán a cantar.



El tiempo de la siega ya pasó.

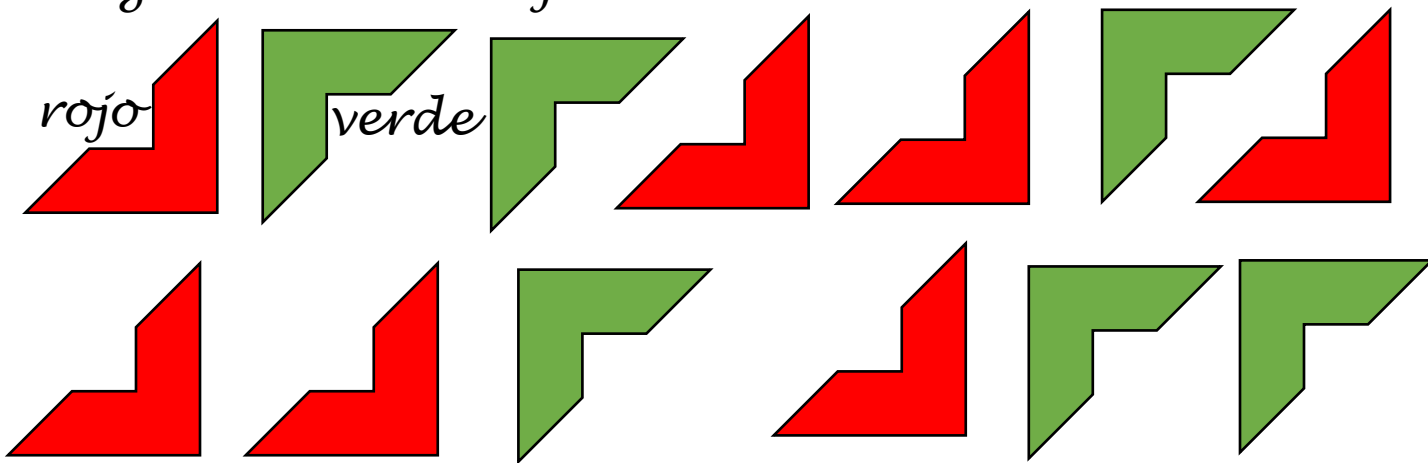
MEMORIA

Escribe el nombre de las personas con las que hablaste ayer:

*Chema, Adela, Mar, Rosa, Roberto, Carlos,
Mary, Araceli, Chelo, Timoteo, Pablo,
Martín, Álvaro,..*

LATERALIDAD

Colorea de verde las imágenes con el ángulo hacia arriba y de rojo las que señalan con el ángulo hacia abajo:



ORIENTACIÓN TEMPORAL

¿Qué día es hoy? ¿Qué hora es? Completa el recuadro y pinta de color más fuerte los tramos del reloj digital que indiquen la hora, como en el ejemplo:

EJEMPLO:

Día de la semana Día del mes Mes

Miércoles

3

noviembre



Año

2021

Estación

Otoño



SUDOKU

Busca 7 casos como en el ejemplo en el que la suma de dos números consecutivos dé 15:

2	1	10	6	16	7	2	10	12
7	9	6 + 9 = 15	7	1	1	3		
9	9	9	3	12	15	5	5	6
8	8	9	1	10	3	4	6	9
5	10	15	6	3	12	15	7	3
16	5	9	6	6	9	15	3	8
7	3	12	15	14	3	7	10	8
4	6	10	3	4	7	10	9	16
5	10	15	3	6	9	15	2	8

CÁLCULO

Opera:



$$\begin{array}{r} 264 \\ \times 87 \\ \hline 1848 \\ 2112 \\ \hline 22.968 \end{array}$$

$$\begin{array}{r} 765 \\ \times 67 \\ \hline 5355 \\ 4590 \\ \hline 51.255 \end{array}$$

$$\begin{array}{r} 365 \\ \times 54 \\ \hline 1460 \\ 1825 \\ \hline 19.710 \end{array}$$

ESTRATEGIAS COGNITIVAS

Busca el camino correcto para que la bruja encuentre su escoba:



Esta bruja traicionera nos quiso engañar y el camino era más sencillo de lo que queríamos buscar, pues bien cortado lo tenía por la mitad.

MANDALA

